

2022 提前招生校测试卷

一、单选题（共 68 题，110 分）

1、下列没有错别字的一组是（ ）

（2.0）

- A、 万头攒动 运筹帷幄 怙恶不悛 天真无邪
- B、 孜孜不倦 箪食壶浆 风光旖旎 高高在上
- C、 惊世骇俗 刻不容缓 返朴归真 理所当然
- D、 明修栈道 牵强附会 无语凝噎 声色俱厉

正确答案： B

2、下列不属于白居易的作品是（ ）

（2.0）

- A、 《长恨歌》
- B、 《琵琶行》
- C、 《锦瑟》
- D、 《卖炭翁》

正确答案： C

3、我国先秦时期一部最能代表儒家思想的语录体散文是_____。（ ）

（2.0）

- A、 《论语》
- B、 《孟子》
- C、 《庄子》
- D、 《老子》

正确答案： A

4、《三国演义》中舌战群儒的是谁（ ）

（2.0）

- A、 刘备
- B、 孙权
- C、 诸葛亮
- D、 鲁肃

正确答案： C

5、下列人物属于宋词“婉约派”的是（ ）

(2.0)

- A、 苏轼
- B、 陆游
- C、 辛弃疾
- D、 李清照

正确答案： D

6、阅读下面的文字,完成下面小题。

70年前,面对延烧至新中国国境线上的战火,中国人民志愿军将士,雄赳赳,气昂昂,跨过鸭绿江,历经两年零九个月舍生忘死的浴血奋战,赢得了抗美援朝战争的伟大胜利。中朝两国人民和军队__、生死相依,用鲜血凝结成了伟大战斗友谊。这一战,拼来了山河无恙、家国安宁;这一战,让全世界对中国__。

70年后,当年的硝烟早已散去,但祖国和人民没有忘记,以党和国家的名义向“最可爱的人”敬意,弘扬伟大抗美援朝精神。无论时代如何发展,我们都要砥砺不畏强暴的民族风骨,__舍生忘死的民族血性,激发守正创新的民族智慧。英雄的功勋光耀千秋,伟大抗美援朝精神必然跨越时空、__。

依次填入文中横线上的词语,全都恰当的一项是()

(2.0)

- A、 休戚与共 刮目相看 锻造 历久弥新
- B、 休戚与共 侧目而视 锻造 老而弥坚
- C、 休戚相关 刮目相看 铸就 老而弥坚
- D、 休戚相关 侧目而视 铸就 历久弥新

正确答案： A

7、下列有关文学常识的表述,不正确的一项是()

(2.0)

- A、 《论语》是孔子的弟子及其后学汇集整理而成的语录体文集,记载了孔子和他的弟子们的言行。孔子是战国末期鲁国人,道家学说的开创者。
- B、 《诗经》是我国最早的诗歌总集,包括西周初期至春秋中叶五百多年间的作品,在内容上分为“风”“雅”“颂”三个部分,相传为孔子编定,被列为儒家经典。
- C、 屈原,名平,字原,战国时楚国人。主张举贤授能、修明法度等。今存《离骚》、《天问》、《九歌》、《九章》等作品。
- D、 莎士比亚是欧洲文艺复兴时期杰出的剧作家和诗人,主要著作有四大悲剧《哈姆雷特》、《奥赛罗》《李尔王》、《麦克白》。

正确答案： A

8、下列词语中,加下划线的字的注音正确的一项是()

(2.0)

- A、 门衰祚薄(zuó) 懿范(yì) 攢射(zǎn) 日薄西山(bò)
- B、 游目骋怀(chěng) 舳舻(gě) 倜傥(tǎng) 潜移默化(qián)

- C、逸兴遄飞(chuán) 捧袂(jué) 逋慢(pū) 耒而不辍(yōu)
D、呱呱而泣(guā) 阙如(què) 癸丑(kuǐ) 钻燧改火(suì)
正确答案： B

9、下面四组诗句不是描写春天景物的一项是：()

(2.0)

- A、 有情芍药含春泪, 无力蔷薇卧晓枝。
B、 天街小雨润如酥, 草色遥看近却无。
C、 停车坐爱枫林晚, 霜叶红于二月花。
D、 杨花榆荚无才思, 惟解漫天作雪飞。

正确答案： C

10、下列诗句中所用修辞手法与其他三项不同的一项是：()

(2.0)

- A、 男儿何不带吴钩
B、 千树万树梨花开
C、 长江万里白如练
D、 疑是银河落九天

正确答案： A

11、对下列句子中以“人体部位”为喻的词,理解不恰当的一项是：()

(2.0)

- A、 贝多芬创作的第五交响乐以特有的音乐旋律,表达了他“要扼住命运咽喉”的心声。
咽喉——比喻生命的安危。
B、 当年,红军长征路过彝族聚居区时,红军首长与彝族首领歃血为盟,建立了手足之情。
手足——比喻两人的关系像弟兄。
C、 鲁迅先生把那些埋头苦干、拼命硬干、为民请命、舍身求法的人称为“中国的脊梁”。
脊梁——比喻在中华民族中起中坚作用的人。
D、 刘备在临终之前,把辅佐后主刘禅“兴复汉室”的重任托付给了股肱之臣诸葛亮。
股肱——比喻诸葛亮是得力的辅佐人才。

正确答案： A

12、下列各句没有语病的是()

(2.0)

- A、 我忽然想到了他曾经告诉我他小时候的故事。
B、 在短时间内,这个刚得到自由的蝉,还十分不强壮。
C、 由于体态相同,谁也难以分辨出它们是旧巢双燕。

D、人的进化与人的异化并肩而行,这是非常有趣的现象。

正确答案: D

13、若 $x > 2$, 则函数 $y = x + \frac{4}{x-2}$ 的最小值为()

(2.0)

- A、 3
- B、 4
- C、 5
- D、 6

正确答案: D

14、已知 $a, b \in \mathbb{R}^+$, 且 $a + 2b = 3ab$, 则 $2a + b$ 的最小值为()

(2.0)

- A、 3
- B、 4
- C、 6
- D、 9

正确答案: A

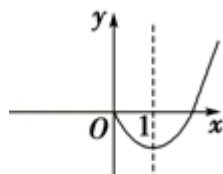
15、某校高一年级有 180 名男生, 150 名女生, 学校想了解高一学生对文史类课程的看法, 用分层抽样的方式, 从高一年级学生中抽取若干人进行访谈. 已知在女生中抽取了 30 人, 则在男生中抽取了()

(2.0)

- A、 18 人
- B、 36 人
- C、 45 人
- D、 60 人

正确答案: B

16、偶函数 $f(x)$ 在区间 $[0, +\infty]$ 上的图象如图, 则函数 $f(x)$ 的单调增区间为()



(2.0)

- A、 $[1, +\infty]$
- B、 $[-1, 0]$
- C、 $[-1, +\infty]$
- D、 $[-1, 0]$ 和 $[1, +\infty]$

正确答案： D

17、曲线 $y=-2x^2+1$ 在点 $(0, 1)$ 处的切线的斜率是()

(2.0)

- A、 -4
- B、 0
- C、 4
- D、 不存在

正确答案： B

18、若函数 $f(x)=x^2+\frac{a-1}{e^x}$ 是偶函数,则实数 a 的值是().

(2.0)

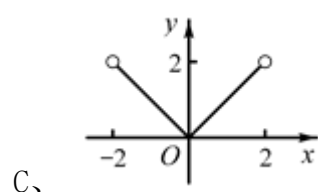
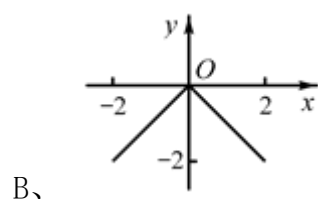
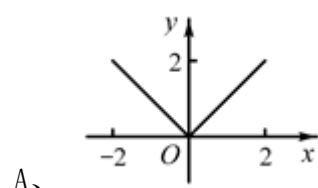
- A、 -1
- B、 0
- C、 1
- D、 不唯一

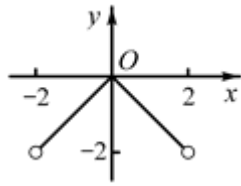
正确答案： C

19、我国著名数学家华罗庚先生曾说：“数缺形时少直观,形缺数时难入微,数形结合百般好,隔裂分家万事休”在数学的学习和研究中,常用函数的图象来研究函数的性质,也常用函数的解析式来琢磨函数的图象的特征,如函数

$y=-|x|(x\in[-2,2])$ 的图象的是()

(2.0)





D、

正确答案： B

20、已知全集 $U = \{0, 1, 2, 3, 4\}$ ，集合 $A = \{1, 2, 3\}$ ， $B = \{2, 4\}$ ，则 $(C_U B) \cap A =$ ()

(2.0)

A、 $\{0, 1, 2, 3\}$

B、 $\{1, 3\}$

C、 $\{1, 2, 3, 4\}$

D、 $\{0, 2, 4\}$

正确答案： B

21、如果一条直线和一个平面平行, 那么这条直线()

(2.0)

A、 只和这个平面内的一条直线平行

B、 只和这个平面内的两相交直线不相交

C、 和这个平面内的任何一条直线都平行

D、 和这个平面内的任何一条直线都不相交

正确答案： D

22、设复数 z 满足 $\frac{1+z}{1-z} = i$ ，则 $\bar{z} =$ ()

(2.0)

A、 i

B、 $-i$

C、 1

D、 $1+i$

正确答案： B

23、在 $\triangle ABC$ 中, 内角 A, B, C 的对边分别是 a, b, c, 且 $(a+b)^2 - c^2 = 4$ ， $C = 120^\circ$ ，则 $\triangle ABC$ 的面积为()

(2.0)

A、 $\frac{\sqrt{3}}{3}$

B、 $\frac{2\sqrt{3}}{3}$

C、 $\sqrt{3}$

D、 $2\sqrt{3}$

正确答案： C

24、在等比数列 $\{a_n\}$ 中, 已知 $a_4 = 3a_3$, $\frac{a_2}{a_1} + \frac{a_4}{a_2} + \frac{a_6}{a_3} + \dots + \frac{a_{2n}}{a_n} =$ ()

(2.0)

A、 $\frac{3^{-n}-3}{2}$

B、 $\frac{3^{1-n}-3}{2}$

C、 $\frac{3^n-3}{2}$

D、 $\frac{3^{n+1}-3}{2}$

正确答案： D

25、圆 $x^2+y^2 - 6x=0$ 的圆心恰为 $y^2=2px$ ($p>0$) 的焦点, 则 p 的值为()

(2.0)

A、 4

B、 5

C、 6

D、 7

正确答案： C

26、若直线 $l_1: 2x-5y+4=0$ 与 l_2 互相平行, 且 l_2 过点 $(2,1)$, 则直线 l_2 的方程为 ()

(2.0)

A、 $5x+2y-12=0$

B、 $2x-5y+1=0$

C、 $5x-2y-8=0$

D、 $2x-5y-9=0$

正确答案： B

27、函数 $f(x) = \frac{1}{2}x^2 - \ln x$ 的单调递减区间为()

(2.0)

- A、 $(-1,1)$
- B、 $(-\infty,1)$
- C、 $(0,1)$
- D、 $(1,+\infty)$

正确答案： C

28、数列 $\{a_n\}$ 满足 $a_n = \frac{1+2+3+\dots+n}{n} (n \in N^*)$, 则数列 $\left\{ \frac{1}{a_n a_{n+1}} \right\}$ 的前 n 项和为()

(2.0)

- A、 $\frac{n}{n+2}$
- B、 $\frac{2n}{n+2}$
- C、 $\frac{n}{n+1}$
- D、 $\frac{2n}{n+1}$

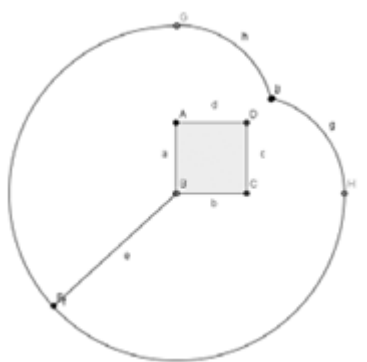
正确答案： B

29、从集合 $\{1,2,4\}$ 中随机抽取一个数 a , 从集合 $\{2,4,5\}$ 中随机抽取一个数 b , 则向量 $\vec{m} = (a, b)$ 与向量 $\vec{n} = (2, -1)$ 垂直的概率为()

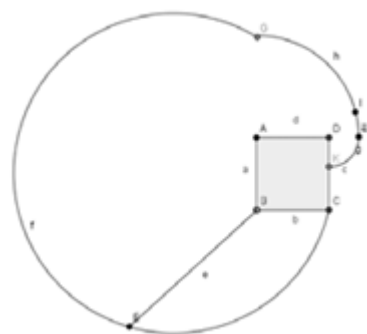
(2.0)

- A、 $\frac{1}{9}$
- B、 $\frac{2}{9}$
- C、 $\frac{1}{3}$
- D、 $\frac{2}{3}$

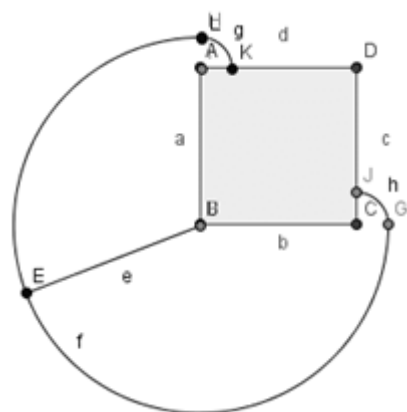
正确答案： B



B、



C、



D、

正确答案： B

32、17 世纪,在研究天文学的过程中,为了简化大数运算,苏格兰数学家纳皮尔发明了对数,对数的思想方法即把乘方和乘法运算分别转化为乘法和加法,数学家拉普拉斯称赞为“对数的发明在实效上等于把天文学家的寿命延长了许多倍”。已知 $\lg 2 \approx 0.3010$, $\lg 3 \approx 0.4771$, 设 $N = 4^5 \times 27^{10}$, 则 N 所在的区间为 ()

(2.0)

- A、 $(10^{15}, 10^{16})$
- B、 $(10^{16}, 10^{17})$
- C、 $(10^{17}, 10^{18})$
- D、 $(10^{18}, 10^{19})$

正确答案： C

33、 You know there are 234_____in our school.

(2.0)

- A、 man teachers
- B、 men teacher
- C、 men teachers
- D、 man-teachers

正确答案： C

34、 Italy is _____European country.

(2.0)

- A、 a
- B、 an
- C、 /
- D、 the

正确答案： A

35、 There isn' t _____ meat. You must buy some today.

(2.0)

- A、 any
- B、 some
- C、 much
- D、 lots

正确答案： A

36、 Look! The students _____ the classroom.

(2.0)

- A、 clean
- B、 is cleaning
- C、 cleaning
- D、 are cleaning

正确答案： D

37、 _____friend' s making_____a kite.

(2.0)

- A、 I/me
- B、 My/my
- C、 My/me
- D、 His/his

正确答案： C

38、What are you going to do _____that vase?

(2.0)

- A、 for
- B、 on
- C、 with
- D、 of

正确答案: C

39、Can you _____here a minute please?

(2.0)

- A、 come
- B、 comes
- C、 coming
- D、 is coming

正确答案: A

40、They _____all their money, so they have to walk home.

(2.0)

- A、 spend
- B、 had spent
- C、 have spent
- D、 will spend

正确答案: C

41、_____? He thinks China is great.

(2.0)

- A、 What does your father think of China
- B、 What does your father like in China
- C、 Does your father like China
- D、 How does your father think of China

正确答案: A

42、Nobody believed his reason for being absent from the class_____he had to look after his sick father at home.

(2.0)

- A、 why
- B、 that
- C、 where
- D、 because

正确答案: B

43、地球由表及里可分为()层。

(1.0)

- A、 地壳、地幔、地核
- B、 地壳、地核、地幔
- C、 地幔、地核、地壳
- D、 地核、地幔、地壳

正确答案： A

44、()是人体生长发育以及受损细胞修复和更新必不可少的营养物质,在体内分解时能为生命活动提供能量。

(1.0)

- A、 糖类
- B、 蛋白质
- C、 脂肪
- D、 维生素

正确答案： B

45、被誉为“常州三杰”的中国共产党早期重要领导人张太雷、恽代英和()。

(1.0)

- A、 瞿秋白
- B、 李公朴
- C、 史良
- D、 吴稚晖

正确答案： A

46、世界上的三大宗教是()

(1.0)

- A、 基督教、犹太教、婆罗门教
- B、 基督教、伊斯兰教、佛教
- C、 佛教、道教、天主教
- D、 伊斯兰教、犹太教、天主教

正确答案： B

47、孔子思想的核心是：()

(1.0)

- A、 仁
- B、 礼
- C、 乐
- D、 孝

正确答案： A

48、为了更好的达到洁净效果,洗手应该选用()。

(1.0)

- A、 开水
- B、 冷水
- C、 阳光暴晒过的水
- D、 流动的水

正确答案： D

49、给餐具消毒时,应选择()。

(1.0)

- A、 56 度以上煮 30 分钟
- B、 酒精消毒
- C、 84 消毒液
- D、 过氧乙酸消毒试剂

正确答案： A

50、虽有个别不典型症状病例,但目前为止,()依然是新型肺炎的典型首发症状。

(1.0)

- A、 饥饿
- B、 腹痛
- C、 腰酸
- D、 发热

正确答案： D

51、如果明知自身已感染新型冠状病毒而故意传播,危害公共安全,即使没有造成严重后果,仍构成以危险方法危害公共安全罪,处()有期徒刑。

(1.0)

- A、 一年以上两年以下
- B、 一年以上三年以下
- C、 三年以上十年以下
- D、 七年以上

正确答案： C

52、在医疗机构、发热门诊、疑似病例观察场所使用过的口罩,应当()。

(1.0)

- A、 随意丢弃
- B、 投入专用垃圾桶

- C、 焚烧
 - D、 投入路边的垃圾桶
- 正确答案： B

53、中国特色社会主义政治发展道路,必须坚持党的领导、()、依法治国有机统一。

(1.0)

- A、 人民当家作主
 - B、 人民民主专政
 - C、 民主协商
 - D、 人民代表大会制度
- 正确答案： A

54、中国共产党的领导地位是历史和()的选择。

(1.0)

- A、 国家
 - B、 人民
 - C、 社会
 - D、 时代
- 正确答案： B

55、社会主义核心价值观中,体现社会层面价值要求的是()。

(1.0)

- A、 富强、民主、文明、和谐
 - B、 自由、平等、公正、法治
 - C、 爱国、敬业、诚信、友善
 - D、 社会主义荣辱观
- 正确答案： B

56、我国的最高立法机关是()

(1.0)

- A、 国务院
 - B、 全国人民代表大会
 - C、 中国共产党
 - D、 全国政治协商会议
- 正确答案： B

57、中国共产党的宗旨是()

(1.0)

- A、 全心全意为人民服务

- B、 实现共产主义
- C、 实现社会主义现代化
- D、 全面建成小康社会

正确答案： A

58、中国精神中的时代精神的核心是()

(1.0)

- A、 和平发展
- B、 社会和谐
- C、 改革创新
- D、 与时俱进

正确答案： C

59、已知:一个四边形是矩形当且仅当四个角都是直角,那么以下情况正确的是:

(1.0)

- A、 一个四边形是矩形,它的四个角并非都是直角
- B、 一个四边形不是矩形,它的四个角都是直角
- C、 一个四边形不是矩形,它的四个角有可能都是直角
- D、 一个四边形不是矩形,它的四个角并非都是直角

正确答案： D

60、如果“杀人”对应“犯罪”,那么以下哪一组词的对应关系与此类似:

(1.0)

- A、 书法:艺术
- B、 美丽:漂亮
- C、 鲁迅:周树人
- D、 历史:通史

正确答案： A

61、如果有一组词是“寺庙:佛像:游客”,那么以下最为贴切的对应是:

(1.0)

- A、 商场:商品:营业员
- B、 画廊:展品:参观者
- C、 公园:城市:市民
- D、 学校:教室:考生

正确答案： B

62、把 1, 3, 6, 10, 15, 21, ……这些数叫做三角形数,这是因为这些数目的点在等距离的排列下可以排成一个正三角形,那么第 8 个三角形数是:

(1.0)

- A、 27
- B、 28
- C、 30
- D、 36

正确答案： D

63、观察下列算式： $2^1=2$, $2^2=4$, $2^3=8$, $2^4=16$, $2^5=32$, ……。根据上述算式的规律, 请你猜想 2^{2016} 的末位数字是:

(1.0)

- A、 2
- B、 4
- C、 6
- D、 8

正确答案： C

64、犯罪行为不是合法行为, 故意杀人罪是犯罪行为。由此可以推出:

(1.0)

- A、 不是犯罪行为一定合法
- B、 不合法行为是犯罪行为
- C、 故意杀人罪不是合法行为
- D、 有的犯罪行为是合法行为

正确答案： C

65、无理数是无限不循环小数, 无限不循环小数是无限小数, 故此我们可以推出:

(1.0)

- A、 无理数不是无限小数
- B、 无限小数是无理数
- C、 无理数是无限小数
- D、 无限小数不是无理数

正确答案： C

66、小明说: “一个四边形, 如果至少有两个角是 90° , 则它至少有一组对边平行。” 为了证明小明的说法是错误的, 需要找到一个四边形, 满足:

(1.0)

- A、 只有一个角为 90° , 且有一组对边平行
- B、 没有 90° 的角, 且有一组对边平行
- C、 有两个角为 90° , 两组对边都不平行
- D、 只有一个角为 90° , 两组对边都不平行

正确答案： C

67、如果两个自然数的乘积是奇数,那么它们的和是偶数。以下情况错误的是:

(1.0)

- A、 两个自然数的乘积是奇数,它们的和是偶数
- B、 两个自然数的乘积是奇数,它们的和是奇数
- C、 两个自然数的乘积是偶数,它们的和有可能是偶数
- D、 两个自然数的乘积是偶数,它们的和有可能是奇数

正确答案: B

68、下列有关艾滋病的说法正确的是()

(1.0)

- A、 其致病病毒只能侵入 T 细胞
- B、 属于先天性免疫缺陷病
- C、 属于自身免疫病
- D、 属于获得性免疫缺陷病

正确答案: D

二、阅读理解 (共 7 题, 28 分)

1、阅读下面的文言文,完成以下 2 题。

李将军广者,陇西成纪人也。天子使中贵人(按:中贵人即宦官)从广勒习兵击匈奴。中贵人将骑数十纵,见匈奴三人,与战。三人还射,伤中贵人,杀其骑且尽,中贵人走广。广曰:“是必射雕者也。”广乃遂从百骑往驰三人。广身自射彼三人者,杀其二人,生得一人,果匈奴射雕者也。已缚之上马,望匈奴有数千骑,见广,以为诱骑,皆惊,上山陈。广之百骑皆大恐,欲驰还走。广曰:“吾去大军数十里,今如此以百骑走,匈奴追射我立尽。今我留,匈奴必以我为大军诱之,必不敢击我。”广令诸将曰:“前!”前未到匈奴陈二里所,止,令曰:“皆下马解鞍!”其骑曰:“虏多且近,即有急,奈何?”广曰:“彼虏以我为走,令皆解鞍以示不走,用坚其意。”于是胡骑遂不敢击。是时会暮,胡兵终怪之,不敢击。夜半时,胡兵亦以为汉有伏军于旁欲夜取之,胡皆引兵而去。平旦,李广乃归其大军。大军不知广所之,故弗从。其后四岁,广出雁门击匈奴。匈奴兵多,破败广军,生得广。行十余里,广以故得脱。于是至汉,汉下广吏,吏当广所失亡多,为虏所生得,当斩,赎为庶人。家居数岁,尝夜从一骑出,从人间回饮,还至霸陵亭。霸陵尉醉,呵止广。广

骑曰：“故李将军。”尉曰：“今将军尚不得夜行，何乃故也！”止广宿亭下。居无何，天子乃召拜广为右北平太守。广即请霸陵尉与俱，至军而斩之。

太史公曰：猿臂善射，实负其能。解鞍却敌，圆阵催锋。边郡屡守，大军再从。失道见斥，数奇不封，惜战名将，天下无双！

（节选自《史记—李将军列传》）

（4.0）

(1)、 [单选题] （2分）

“为虏所生的，当斩”中的“当”的含义是()

A、 应当

B、 判决

C、 相当

D、 建议

正确答案： B

(2)、 [单选题] （2分）

对这段文字的分析，下列说法正确的一项是（ ）

- A、 这段文字的主要表达方式是描写。
- B、 李广的卖国求荣使其最终没有逃脱被惩罚的命运。
- C、 霸陵尉事件揭露了李广恩将仇报的性格。
- D、 作者虽然对李广有褒有贬，但也流露出对赏罚不公的不满。

正确答案： D

2、阅读下面的现代文，完成以下 3 题。

过年须要在家乡里才有味道。羁旅凄凉，到了年下只有长吁短叹的份儿，还能有半点欢乐的心情？而所谓家，至少要有老小二代，若是上无双亲，下无儿女，只剩下伉俪一对，大眼瞪小眼，相敬如宾，还能制造什么过年的气氛？北平远在天边，徒萦梦想，童时过年风景，尚可回忆一二。

祭灶过后，年关在迩。家家忙着把锡香炉，锡蜡签，锡果盘，锡茶托，从蛛网尘封的箱子里取出来，作一年一度的大擦洗。宫灯，纱灯，牛角灯，一齐出笼。年货也是要及早备办的，这包括厨房里用的干货，拜神祭祖用的苹果干果等等，屋里供养的牡丹水仙，孩子们吃的粗细杂拌儿。蜜供是早就在白云观订制好了的，到时候用纸糊的大筐篓一碗一碗的装着送上门来。家中大小，出出进进，如中风魔。主妇当然更有额外负担，要给大家制备新衣新鞋新袜，尽管是布鞋布袜大衫，总要上下一新。

祭祖先是过年的高潮之一。祖先的影像悬挂在厅堂之上，都是七老八十的，有的撇嘴微笑，有的金刚怒目，在香烟缭绕之中，享用蒸糕，这时节孝子贤孙叩头如捣蒜，其实亦不知所为何来，慎终追远的意思不能说没有，不过大家忙

的是上供，拈香，点烛，磕头，紧接着是撤供，围桌吃年夜饭，来不及慎终追远。

吃是过年的主要节目。年菜是标准化了的，家家一律。人口旺的人家要进全猪，连下水带猪头，分别处理下咽。一锅炖肉，加上蘑菇是一碗，加上粉丝又是一碗，加上山药又是一碗，大盆的芥末墩儿，鱼冻儿，肉皮辣酱，成缸的大腌白菜，芥菜疙瘩，——管够，初一不动刀，初五以前不开市，年菜非囤集不可，结果是年菜等于剩菜，吃倒了胃口而后已。

(6.0)

(1)、[单选题] (2分)

从文中看不出哪一项？()

A、 作者现在远离家乡。

B、 作者现在处境凄凉。

C、 作者现在思念故乡。

D、

作者现在没有父母儿女。

正确答案： D

(2)、[单选题] (2分)

下面哪项不属于要置办的年货？()

A、 灯笼、供器

B、 干鲜果品

C、 蜜供

D、 新衣、新鞋、新袜

正确答案： A

(3)、 [单选题] (2 分)

关于过年的“吃”，下面哪项不正确？()

A、 吃是过年的一项重大内容。

B、 家家户户过年吃的菜都差不多。

C、 过年只能吃剩菜。

D、 从初一到初五，没有人卖菜。

正确答案： C

3、 阅读下面的现代文，完成以下 3 题。

谁持彩练当空舞

熊召政

老远我就看到那棵大樟树了。那是怎样的一棵樟树啊，它的主干比碾盘还要粗壮。枝盘曲着伸向天空，每一根都分明留下铁打铜铸的英雄气。树上所有的叶子都葱绿、晶亮，它们密密簇簇，横拓出去，遮盖了村落前大半个稻场；填满叶与叶之间缝隙的，不仅有被春雨洗亮的阳光，更有比田间的蛰声更为轻盈的鸟鸣。

这棵大树后面，是一栋江南常见的白墙青瓦的古民居，一种四水归堂的泥砖建筑。从墙上的铜牌可知，这是当年毛泽东担任中央苏维埃政府主席时的旧居。

我们说战争是残酷的，但战场上的风景往往如诗如画。就像这栋位于瑞金叶坪的伟人住过的古民居，无论是它瓦檐上苍郁的针菲，还是泥墙上被风雨剥蚀的苔痕；无论是它天井里潮润的细沙，还是瓦脊上等待炊烟的雨燕，给予我的都是恬淡的乡村牧歌之感。住这样的房子里，面对数十倍于红军的敌人的“围剿”，毛泽东指挥若定，他以浓得化不开的战场硝烟为墨，写下这样的诗句：“赤橙黄绿青蓝紫，谁持彩练当空舞？”

从这激战之后的诗句来看，伟人自有伟人的胸襟，伟人自有伟人的浪漫。在诗人眼中，历史总是充满诗意。

走出这所房子，我站在大樟树下。突然，不知什么地方的广播放起了《十送红军》。尽管当地人说，这首歌唱得失去了赣南的韵味，已经不是乡音了，但我仍在这略带忧伤的旋律中，领略到七十年前那些浸在血水与泪水中的记忆。

毛泽东在这棵大樟树下骑上战马，迈向重重关山；八万多红军在这片土地上启程，在乡亲们期盼与炙热的眼光中，开始了人类历史上最为壮烈的长征。

我的家乡是另一片苏区，红军战士头上的八角葵帽，成为我童年记忆中不可亵渎的神圣图腾。神圣可以沉眠，但不会消失。此刻我站在这棵大樟树下，听完《十送红军》后，忍不住四下张望：与漠漠水田上的白鹭一起飞扬的战旗呢？在青石板上驰过的马蹄呢？它们都去了哪里？

我常说，如果我早生半个世纪，我可能不会成为一名作家。几乎不用置疑，多血质的我，肯定是一名红军战士。我羡慕毛泽东、周恩来、朱德这样的伟人，在中国的大地上，写下民族的史诗。一支笔比之一杆刺破黑暗的长枪，一本书比之一场决定国家命运的战争，毕竟分量太轻，太轻。

十送红军，送的是我们的亲人，我们的骨肉。多少个苏区的母亲啊，在漫漫长夜里，她们纺车上的手柄，一次又一次摇圆了中天明月，但总不能摇圆她们无尽的思念。那永远不能收回的，村口送别的目光啊，又怎能穿透二万五千里重重阴霾？雪山草地，沼泽荒漠，一寸一寸，不仅沾满了战士的血，也沾满了亲人的泪。

纵览历史，我们可以说，所有通往天堂的路，都充满了艰辛与苦难。一个人扭转乾坤的能力，取决于他化腐朽为神奇、化苦难为诗情的禀赋。历史拒绝呻吟，但历史不拒绝浪漫。毛泽东在硝烟弥漫的战场上吟唱“谁持彩练当空舞”，这是何等的想象力啊！正是他和他的战友们，用自己的如虹豪气，为我们的民族炼出了一条魅力四射的彩练。

彩练初出，赣水那边红一角；彩练当空，神州大地舞翩跹！炮火不能烧毁它，风雨不能摧残它。当这条彩练飞过于都河，飞过金沙江，飞过娄山关，飞过乌蒙山，飞过南国的雾，飞过北国的雪，我们惊异地发现，原来这一条彩练，竟是一条长达二万五千里的长征路。

谁持彩练当空舞？是我们的红军，我们餐风饮露、百折不挠的中华儿女。

物换星移，历史的烽烟早化作大地上的虹霓，我们也只能从竟夜的春风、从山间的鸟啼来谛听烈士们的呼吸。但是七十年前的那棵老树，还是那么苍翠欲滴，这是因为它的根须，始终抓住了泥土；七十年前的那条彩练，还在我们的仰望中飘舞，这是因为民族的精气还在。对于我们来说，长征不仅仅是一段逝去的故事，也不仅仅是一种奋进的象征，还是一只正在吹响的号角，一首还没有完成的史诗。

（摘自熊召政散文集《历史的驴友》）

(6.0)

(1)、【单选题】 (2分)

下列对加点词语在文中意思的解说，不正确的一项是：

A、

恬淡：瑞金叶坪的伟人住过的古民居给人内心恬静、安适的感受。

B、

摇圆：满足苏区的母亲再次见到参加长征的子女的心愿。

C、 阴霾：长征路上的恶劣天气。

D、 谛听：仔细地体悟烈士们的精神。

正确答案： C

(2)、【单选题】 (2分)

下列对文章思想内容的分析与概括，不正确的一项是：

A、 文章描述古民居的屋檐针菲、泥墙苔痕、瓦脊雨燕等，突出其古朴淡雅，旨在表达作者的喜爱之情。

B、 文中用“最壮烈”修饰“长征”，既写出了亲人之思、战争之烈，又表现出长征路途之长、人员之众。

C、 文章写赣南、作者家乡等地的苏区，表明中国革命能够取得胜利，离不开众多苏区百姓的大力支持。

D、 文章没有详写战争生活的残酷激烈，而是着重表现革命的浪漫主义情怀，礼赞红军的乐观主义精神。

正确答案： A

(3)、 [单选题] (2分)

下列对文章艺术特点的理解与鉴赏，不正确的一项是：

A、 文章开篇描写大樟树的主干、枝丫、叶子，突出大樟树的盎然生机，为全文营造了昂扬明朗的氛围。

B、 文章虚实结合，借大樟树与《十送红军》，将现实与回忆融为一体，在现实描写与历史回忆间自如转换。

C、 散文贵在有“我”，文章提到“我”的向往时，用笔与长枪、书与战争作比，表现出尚武轻文的倾向。

D、 文章运用象征手法，樟树根须始终抓住泥土而苍翠依旧，象征着军民之情长在，长征精神永葆生机。

正确答案： C

4、

In England, people often talk about the weather because they can experience (经历) four seasons in one day. In the morning the weather is warm

just like in spring. An hour later, black clouds come and then it rains hard. The weather gets a little cold. In the late afternoon, the sky will be sunny, the sun will begin to shine, and it will be summer at this time of a day.

In England, people can also have summer in winter, or have winter in summer. So in winter they can swim sometimes, and in summer sometimes they should take warm clothes.

When you go to England, you will see that some English people usually take an umbrella (伞) or a raincoat with them in the sunny morning, but you should not laugh at them. If you don't take an umbrella or a raincoat, you will regret (后悔) later in the day.

(4.0)

(1)、[单选题] (1分)

Why do people in England often talk about the weather?

A、

Because they may have four seasons in one day.

B、 Because they often have very good weather.

C、 Because the weather is warm just like in spring.

D、 Because the sky is sunny all day.

正确答案： A

(2)、[单选题] (1分)

From the story we know that when _____ come, there is a heavy rain.

A、 sunshine and snow

B、 black clouds

C、 summer and winter

D、 spring and autumn

正确答案： B

(3)、 [单选题] (1分)

“People can also have summer in winter.” Means “it is sometimes too _____in winter.”

A、 warm

B、 cool

C、 cold

D、 rainy

正确答案： A

(4)、[单选题] (1分)

The best title (标题)for this passage is _____.

A、 Bad Seasons

B、 Summer or Winter

C、 The Weather in England

D、 Strange English People

正确答案： C

5、 Say you're sitting around with some friends playing video games and someone mentions a game that happens to be one of your favorites. "Oh, that game's easy. So not worth the time," one of your friends says. The others agree. Although you enjoy the game quite a lot, not wanting to argue with them, you go along with the crowd.

You have just experienced what is commonly referred to as peer pressure (同伴压力), also called peer influence. You will adopt a certain type of behavior, dress, or attitude in order to be accepted as part of a group of your "peers". As a teen, you are likely to have experienced the effect of peer pressure in a number of different areas.

We are all influenced by our peers at any age. For teens, as school and other activities take you away from home, you may spend more time with your friends than with your family. As you become more independent, your peers naturally play a greater role in your life.

According to Dr. Casey from Cornell University, teens are very quick and accurate in making decisions on their own and in situations where they have time to think. However, when they make decisions in the heat of the moment or in social situations, their decisions are often influenced by factors like peers. In a recent study, teen volunteers played a video driving game, either alone or with friends watching. The researchers discovered that the number of risks teens took

more than doubled when their friends were watching, compared with when they played alone. This shows that teens may find it more difficult to control risky behavior when their friends are around, or in situations where they are extremely angry.

Just as people can influence us to make unwise choices, they can also influence us to make good ones. A teen might join in a volunteer project because his or her friends are doing it, or get good grades because his or her friends think getting good grades is important. In fact, friends often encourage each other to study, or try out for sports.

While we are always influenced by those around us, the decision to act or not is up to us. So when it comes to decision making, the choice is up to you.

(4.0)

(1)、[单选题] (1分)

According to the passage, Dr. Casey probably agrees that teens _____.

- A、 like to play driving games with their friends
- B、 prefer situations where they have time to think
- C、 may take more risks when their friends are around
- D、 are slow in making decisions when they are on their own

正确答案： C

(2)、[单选题] (1分)

The words “in the heat of the moment” in Paragraph 4 probably mean “_____”.

- A、 when teens avoid possible risks

- B、 when teens trust their judgment
- C、 when teens lose control over their anger
- D、 when teens give consideration to situations

正确答案： C

(3)、 [单选题] (1 分)

What can we learn from the passage?

- A、 Teens are eager to be different from their peers.
- B、 Peer pressure has effects on both teens and adults.
- C、 Peer pressure does more harm than good to teens.
- D、 Tees think it challenging to get good grades at school.

正确答案： B

(4)、 [单选题] (1 分)

Which of the following would be the best title for the passage?

- A、 Peer Pressure: Is It Necessary to Deal with It?

B、 Peer Pressure: Is It Possible to Get Away from It?

C、 Peer Pressure: Its Benefits to Teens and Friend Making

D、 Peer Pressure: Its Influence on Teens and Decision Making

正确答案： D

6、一件事的情况或者是 p, 或者是 q, 也有可能既是 p 又是 q。

(2.0)

(1)、 [单选题] (1 分)

如果事情的情况是 p, 那么事情的情况也是 q 吗?(1 分)

- A、 肯定是 q
- B、 肯定不是 q
- C、 不确定是不是 q
- D、 不会做

正确答案： C

(2)、 [单选题] (1 分)

如果事情的情况不是 p, 那么事情的情况是 q 吗?(1 分)

- A、 肯定是 q
- B、 肯定不是 q
- C、 不确定是不是 q
- D、 不会做

正确答案： A

7、一件事的情况要么是 p, 要么是 q, 不可能既是 p 又是 q。

(2.0)

(1)、 [单选题] (1 分)

如果事情的情况是 p, 那么事情的情况也是 q 吗?(1 分)

- A、 肯定是 q
- B、 肯定不是 q
- C、 不确定是不是 q
- D、 不会做

正确答案: B

(2)、 [单选题] (1 分)

如果事情的情况不是 p, 那么事情的情况是 q 吗?(1 分)

- A、 肯定是 q
- B、 肯定不是 q
- C、 不确定是不是 q
- D、 不会做

正确答案: A

三、 完型填空 (共 2 题, 12 分)

1、 One rainy afternoon an old lady walked into a Philadelphia department store. Most of the clerks ignored(忽略)her, 1 only one young man asked if he could help her. She replied that she was just 2 for the rain to stop. He told her he wouldn' t try to sell her anything she didn' t want. Instead he brought her 3.

When the rain stopped, the lady 4 the young man and asked for his card. A few months passed, the owner of the store received a letter inviting this young man to Scotland to get orders for providing goods for a large company! The letter was 5 the old lady for whom the clerk had provided a chair. She happened to be owner' s mother of the large company, too.

When the young clerk had his bags packed for Scotland, he had already been one of the bosses in that department store, all because he had shown a little 6 to a stranger when no one else would.

(6.0)

(1)

A 、 or

B 、 and

C 、 but

D 、 if

(2)

A 、 looking

B 、 helping

C 、 asking

D 、 waiting

(3)

A 、 an umbrella

B 、 a chair

C 、 a book

D 、 a pen

(4)

A 、 told

B 、 said

C 、 helped

D 、 thanked

(5)

A 、 from

B 、 for

C 、 to

D 、 by

(6)

A 、 honesty

B 、 cleverness

C 、 care

D 、 money

正确答案： (1) C (2) D (3) B (4) D (5) A (6) C

2、 There was a pet store and the owner had a parrot. One day a 1 walked in and the parrot said to the man, " Hey you! " The man said, " What!? " The parrot said, " Your 2 is really ugly. " The man got very 3 and went to the store owner and said, " Your bird just offended my wife. It said she was ugly. "

The owner stormed over, 4 the bird, took it into the " black room " , shook it a bit, pulled out a few feathers, and said, " Don't ever, ever say anything to embarrass my customers again. You got that! ! ! "

With that 5 he took the bird and put it back into its cage. The old bird shook out its feathers and relaxed in its cage. A couple of weeks 6 and in walked this guy and his wife again. The parrot said, " Hey you! " The guy said, " What!? " The parrot answered, " You know that. "

(6.0)

(1)

A 、 group

B 、 team

C 、 couple

D 、 crowd

(2)

A 、 wife

B 、 sister

C 、 mother

D 、 daughter

(3)

A 、 curious

B 、 nervous

C 、 guilty

D 、 angry

(4)

A 、 hugged

B 、 seized

C 、 trained

D 、 rescued

(5)

A 、 warning

B 、 comment

C 、 suggestion

D 、 request

(6)

A 、 lasted

B 、 arrived

C 、 appeared

D 、 passed

正确答案： (1) C (2) A (3) D (4) B (5) A (6) D